




Mathematisches Oktoberrätsel

für die Klassen 5 und 6:

Am 24. Februar 2015 sind die Küken eines Geflügelzüchters geschlüpft. Der Februar 2015 hatte 28 Tage. Wie alt waren die Küken am 15. März 2015?

- (A) 29 Tage (B) 24 Tage
(C) 22 Tage (D) 19 Tage
(E) 15 Tage



Wie kannst du mitmachen?

Ganz einfach:

Schreibe deine Lösung mit deinem Namen und deiner Klasse auf ein Blatt Papier und lege dieses in den Karton auf dem Regal der Tagebücher.

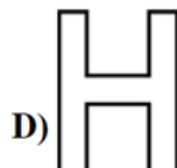
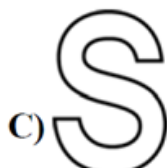
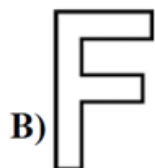
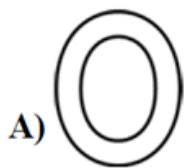
Abgabeschluss ist der **30. Oktober 2015**.



Mathematisches Oktoberrätsel

für die Klassen 7 und 8:

Eva hat eine Schere und fünf Buchstaben aus Karton. Sie zerschneidet jeden Buchstaben mit einem einzigen geraden Schnitt so, dass so viele Stücke wie möglich entstehen. Bei welchem Buchstaben erhält sie die meisten Stücke?



Wie kannst du mitmachen?

Ganz einfach:

Schreibe deine Lösung mit deinem Namen und deiner Klasse auf ein Blatt Papier und lege dieses in den Karton auf dem Regal der Tagebücher.

Abgabeschluss ist der **30. Oktober 2015**.