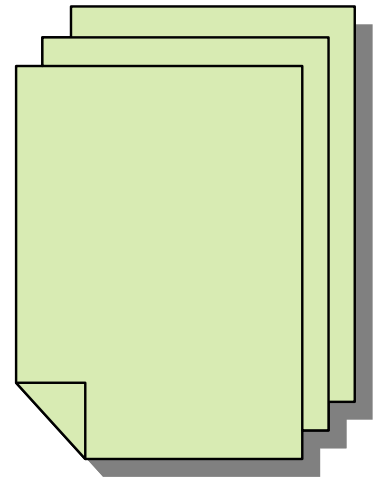


# Mathematisches Mairätzel

*für die Klassen 5 und 6:*

Um eine Zeitung mit 60 Seiten herzustellen, braucht man 15 Blätter, die ineinander gesteckt werden. In einer solchen Zeitung fehlt die Seite 7. Welche Seiten fehlen in dieser Zeitung noch?

- (A) 8,9 und 10      (B) 8,42 und 43      (C) 8,48 und 49  
(D) 8,52 und 53      (E) 8,53 und 54



**Wie kannst du mitmachen ?**

Ganz einfach:

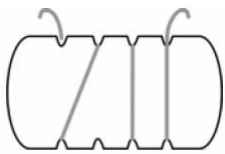
Schreibe deine Lösung mit deinem Namen und deiner Klasse auf ein Blatt Papier und wirf diese in den Briefkasten

Abgabeschluss ist der **30. Mai 2014.**

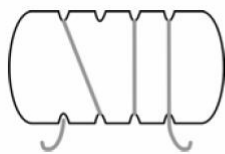
# Mathematisches Mairätzel

*für die Klassen 7 und 8:*

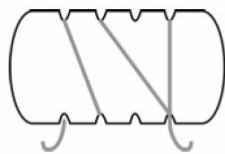
Andrea wickelt ein Band um ein Stück Holz. Sie dreht dann das Holz wie abgebildet um. Wie sieht das umgedrehte Holz aus?



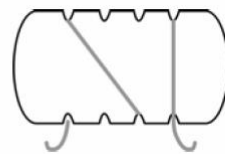
A)



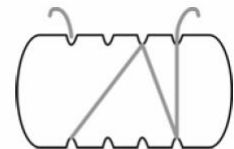
B)



C)



D)



E)

**Wie kannst du mitmachen ?**

Ganz einfach:

Schreibe deine Lösung mit deinem Namen und deiner Klasse auf ein Blatt Papier und werfe diese in die Box im Sekretariat ein.

Abgabeschluss ist der **30. Mai 2014**.

# Mathematisches Mairätzel

*für die Klassen 9 und 10:*

Mein Lehrer sagt, dass das Produkt seines Alters mit dem Alter seines Vaters 2010 ist. In welchem Jahr kann mein Lehrer geboren sein?

- (A) 1943
- (B) 1953
- (C) 1980
- (D) 1995
- (E) 2005



## Wie kannst du mitmachen ?

Ganz einfach:

Schreibe deine Lösung mit deinem Namen und deiner Klasse auf ein Blatt Papier und werfe diese in die Box im Sekretariat ein.

Abgabeschluss ist der **30. Mai 2014**.